

التاريخ : ١٤٣٨ هـ / ٢٠١٦ م

المادة : الفلسفة / ٢٠١٦ / ٢٠١٧

العدد : الأول

الزمن : ساعة

الدرجة : ٨٠ درجة

المادة : الفلسفة مادة الفلسفة

الموضوع : في الفلسفة اليونانية القديمة

الطبعة : في العام الجامعي ٢٠١٦ / ٢٠١٧

أجب على الأسئلة التالية :

السؤال الأول : ( الدرجة ٢٥ )

"الرجاء انطاد صورة بيضاء توضح مدى الاختلاف في الفسفة بين  
مبيني افندي من المحققات الفسفة في بلد واحد في ضوء دراستك  
هذا العام لطرق الأسس اليونانية

السؤال الثاني :

- اذكر اتجاهات فلسفة الفسفة وأصل وطبيعة فلسفة الفسفة ثم  
عند علاقة الفسفة بالفسفة اليونانية ؟ ( الدرجة ٥٠ )


السؤال الثالث :

أذكر الكائنات والقوى اليونانية للفسفة اليونانية ثم  
عند النشاط اللاهني والتاريخ ودورها اليونانية في الفسفة  
اليونانية ؟ ( الدرجة ٥٠ )

السؤال الرابع :

- اذكر عن الأثر الفسفة الفسفة اليونانية ؟ ثم  
اليونانية الفسفة ودورها اليونانية ؟ ( الدرجة ٥٠ )

مع قياتي بالعام

رقم كود المقرر:		جامعة طنطا
زمن الامتحان : ساعتان		كلية التربية الرياضية
النهاية العظمى : ٨٠ درجة		قسم التدريب وعلوم الحركة الرياضية
الفرقة : الثالثة " تدريب "		
الامتحان النظرى لمقرر : عام تدريب رياضى (١)		
للعام الجامعى : ٢٠١٦\٢٠١٧		

اجب عن الاسئلة التالية :

السؤال الاول : (٢٥ درجة)  
- ماهى اهداف الانتقاء فى المجال الرياضى ؟

السؤال الثانى : (٢٥ درجة)  
- اذكر انواع التدريبات الخاصة بالاحماء العادى مع شرح احداها ؟

السؤال الثالث : (٣٠ درجات)  
ان عملية استعادة الاستشفاء هى من اهم العمليات التى تساعد فى تطور مستوى اللاعبين فى جميع الانشطة الرياضية

١- ماهى العوامل التى تؤثر فى عملية الاستشفاء ؟

٢- اذكر الوسائل المستخدمة للاسراع فى استعادة الشفاء ؟

تمنياتى بالتوفيق



جامعة طنطا  
كلية التربية الرياضية  
قسم الالعاب الجماعية ورياضات المضرب  
المادة/تدريب رياضة التخصص (١)  
الفرقة/الثالثة شعبة تدريب (تخصص كرة سلة)  
الزمن /ثلاث ساعات

## امتحان الفصل الدراسي الاول للعام الجامعي ٢٠١٦/٢٠١٧

\*\*\*\*\*

### الدرجة [٣٠.]

### السؤال الاول :

من خلال دراستك للمهارات الاساسية في كرة السلة - اذكر تقسيمين للمهارات الاساسية الهجومية مع تناول احدى المهارات بالتفصيل موضحا ما يلي:  
(الخطوات التعليمية - الأخطاء الشائعة- تدريب للارتقاء بالمهارة).

### الدرجة [٣٠.]

### السؤال الثاني:

- اذكر ما تعرفه عن:
- العوامل المؤثرة على دقة التصويب في كرة السلة.
- طرق تدريب القدرات الذهنية.
- اهمية دراسة الاداء الحركي للمدرب.

### الدرجة [٣٠.]

### السؤال الثالث:

تعتبر مراحل تعلم المهارات الاساسية هي اهم المراحل الذي اتفق عليها جميع الخبراء عن البدء في تعليم المهارات الاساسية في كرة السلة من خلال مدارس ....  
تكلم عن مراحل تعلم المهارات الاساسية في كرة السلة

### الدرجة [٣٠.]

### السؤال الرابع:

- ارسم ملعب كرة سلة .
- ضع علامة (صح) او (خطا) امام كل عبارة مما يلي
- عدد لاعبي فريق كرة السلة ١٥ لاعب ( )
- كل لاعب بالفريق له عدد سبع اخطاء شخصية في طوال وقت المباراة ( )
- يمكن انتهاء المباراة بالتعادل بين الفريقين ويحتسب وقت إضافي قدرة خمس دقائق ( )
- ارتفاع الحلقة عن الارض ٢.٧٥ متر عن مستوى سطح الارض ( )
- زمن المباراة في كرة السلة ٦٠ دقيقة على خمس اشواط ( )

الزمن : (٣) ساعات  
الدرجة الكلية : (١٢٠) درجة  
التاريخ : ٢٠١٧/١/٩ م



جامعة طنطا  
كلية التربية الرياضية  
قسم الألعاب الجماعية ورياضات المضرب

امتحان مقرر: تدريب رياضة التخصص (١) - (تخصص كرة قدم)  
طلاب الفرقة الثالثة - شعبة التدريب - الفصل الدراسي الأول ٢٠١٦م/٢٠١٧م

=====

### السؤال الأول : (١٠ درجات)

١. تحقق عملية الانتقاء عدة أغراض منها زيادة الإقبال علي الممارسة، زيادة التنافس،  
..... ، .....
٢. تنقسم مراحل الانتقاء الي ..... ، ..... ، .....
٣. أهداف الانتقاء في المجال الرياضي الاكتشاف المبكر للموهوبين ، ..... ، .....
٤. محددات عملية الانتقاء هي ..... ، ..... ، .....

### السؤال الثاني : (٤٠ درجات)

- يعتبر الإعداد البدني من المتطلبات الأساسية لممارسة رياضة كرة القدم ، وهو الأساس الي تركز عليه الحالة الفنية للاعب طوال الموسم ، من خلال ذلك :
- أ. ضع تعريفاً للإعداد البدني للاعب كرة القدم - ثم وضع أنواعه؟
  - ب. تناول بالشرح طرق ومبادئ تدريب الصفات البدنية لتنمية (٣) من عناصر اللياقة البدنية لإحدى فرق كرة القدم ، مستعيناً بنماذج تدريبية لتنمية كل عنصر من هذه العناصر؟
  - ج. ضع اختبارين لقياس صفتي الرشاقة والمرونة ، مع الرسم؟

### السؤال الثالث : (٣٠ درجات)

- تخطيط التدريب في كرة القدم هو التنبؤ بالمستويات التنافسية بناء علي توقعات وعمل البرامج التنفيذية لتحقيق نتائج محددة ، في ضوء ذلك وضع :
- أ. أنواع خطط التدريب في كرة القدم؟
  - ب. أهمية التخطيط في كرة القدم؟
  - ج. خصائص تخطيط التدريب في كرة القدم؟

### السؤال الرابع : (٤٠ درجات)

- ينقسم الموسم التدريبي في خطة التدريب السنوية في كرة القدم الي ثلاث فترات هي (فترة الإعداد - فترة المباريات - فترة الانتقالية) ويعد تخطيط البرنامج التدريبي خلال فترة الإعداد الأساس الذي يبني عليه مستوي الفريق خلال الموسم ، في ضوء ذلك :
- أذكر أجزاء فترة الإعداد ثم تناولها بالشرح ، مع وضع نموذج لوحدة تدريبية؟

انتهت الأسئلة ..... مع تمنياتي لكم بالتوفيق

أ.د/ هاني سعيد

المادة : تدريب رياضة التخصص "١" تخصص سباحة  
الفرقة الثالثة تدريب رياضي "بنين"  
الزمن : ٣ ساعات



جامعة طنطا  
كلية التربية الرياضية  
قسم الرياضات المائية

**امتحان تدريب رياضة التخصص "١" تخصص سباحة**  
**الفرقة الثالثة تدريب رياضي بنين الفصل الدراسي الاول ٢٠١٧/٢٠١٦**

اجب عن الأسئلة الآتية : ١٢٠ درجة

السؤال الأول :- ٢٠ درجة

( ان الأساليب الحديثة المستخدمة في العملية التعليمية والتدريبية مثل الحاسب الالى تساعد السباح على التعلم )

١- اشرح مبادئ التدريب الرياضي من الناحية الفسيولوجية ؟

٢- تحايل قوى السباح باستخدام برنامج اكوانيكس .

السؤال الثاني :- ٢٠ درجة

١- أغراض قياس المهارات فى السباحة ؟

٢- اشرح مستكشف المدرب ؟

السؤال الثالث :- ٢٠ درجة

١- تكلم عن الاختبارات الفسيولوجية لتنظيم إنتاج الطاقة للسباح من حيث الناحية الهوائية واللاهوائية ؟

٢- تكلم عن حمار فلور للسباحة ؟

السؤال الرابع :- ٢٠ درجة

١- اشرح التحليل الفني لسباحة الظهر والفراشة من خلال ضربات الزراعيين والرجلين ؟

**مع أطيب التمنيات بالتوفيق والنجاح**

أستاذ المادة

أ.د/ السيد سعد

امتحان تخصص المصارعة للفرقة الثالثة بنين

شعبة تدريب رياضي

الفصل الدراسي الأول ٢٠١٦ - ٢٠١٧

( ٢٠ درجة )

السؤال الأول :

تطور المصارعة مرتبط بتطور التكنيك ارتباطا وثيقا نظرا لأن التكنيك أحد العوامل المحددة لمستوى أداء المصارع وتزداد أهميته باستمرار تطويره واستخدام وسائل مختلفة له من أجل تحقيق الهدف المنشود وهو الفوز..

في ضوء تلك العبارة تحدث عن :-

- ١- التكنيك الخاص لتنفيذ الحركات التكتيكية .
- ب- المراوغة أحد وسائل تنفيذ الحركات عرفها وأذكر أنواعها

( ١٥ درجة )

السؤال الثاني :

اكتب باستفاضة عن أهمية الاختبارات والمقاييس في مجال المصارعة

( ١٥ درجة )

السؤال الثالث :

كيف تعلم الناشئ مهارة من مهارات رياضة المصارعة مع شرح نموذج تعليمي لأحد المهارات

( ١٠ درجة )

السؤال الرابع :-

ضع علامة صح أو خطأ أمام العبارات الآتية :-

- ١ . يجوز لرئيس البساط إبداء رأيه قبل الحكم والقاضي في حسم احتساب نقاط أحد الحركات .
- ٢ . تكون مدة المباريات لبطولة العالم كبار وصغار للأصناف الثلاثة ( حرة - رومانية - نسائية ) ٨ أيام
- ٣ . يجب على المصارع أن يرتدي مايوه قطعتين من اللون الاحمر أو الأزرق وممنوع أن يكون مزيجا من اللونين .
- ٤ . يتكون طاقم التحكيم في المباراة من حكمين وقاضي ورئيس بساط
- ٥ . قطر منطقة الصراع ببساط المصارعة ٩ متر

مع خالص التمنيات بالتوفيق



الامتحان النظري لمقرر : تدريب رياضة تخصصية (رفع الأثقال) / شعبة : التدريب الرياضي / بنين  
الفصل الدراسي : الأول / للعام الجامعي : ٢٠١٦ : ٢٠١٧ / دور : يناير

٨٠ درجة

السؤال الأول :

٤٠ درجة

ا- في ضوء ما درست عرف حمل التدريب ومكوناته ( الشده ، الحجم ، الراحة ) ، ثم قم بتصميم وحدة تدريبية أسبوعية لرياضة رفع الأثقال علي أن تكون الوحدة في فترة المناقسات

٤٠ درجة

ب-

إن إنجاز وتحسين الأرقام القياسية في رفع الأثقال ينطور بشكل مستمر عند استكمال الصفات البدنية لدى الرباع ، وأن أي خطأ في العلاقة بين هذه الصفات يؤدي إلى بذل مزيد من الجهد في إنجاز الأداء بدون تحقيق مستويات عالية ، وأن رباعي المستويات العليا يحتاجون إلى مجموعة من الصفات البدنية .  
في ضوء هذه العبارة اذكر عناصر اللياقة البدنية الأكثر ارتباطاً برياضة رفع الأثقال ، موضحاً كيف يمكنك أن تقيس كل عنصر من هذه العناصر لرباعي رياضة رفع الأثقال ؟

٤٠ درجة

السؤال الثاني :

ان رفعة الخطف باليدين في رياضة رفع الأثقال هي الرفعة الأولى التي تؤدي في المسابقة ، وتعرف بأنها ذلك الأداء الحركي الذي يتمكن الرباع من خلاله رفع الثقل من الأرض إلي أقصى امتداد للذراعين فوق الرأس طبقاً لأحكام القانون الدولي لرفع الأثقال ، وهذه الرفعة تؤدي دون توقف وتستغرق حوالي " ٣ : ٤.٥ ث " ، وهي أصعب الرفعات من الوجهة الفنية حيث أنها تحتاج إلي توافق ومهارة حركية علاوة علي المرونة المطلوبة في مفصل الفخذين والكتفين  
في ضوء هذه العبارة قم بتصميم جدول يوضح مراحل الأداء الفني لمهارة الخطف باليدين ، علي أن يشتمل الجدول الآتي : " مراحل الأداء الفني - أجزاء الجسم - أوضاع الجسم - العضلات العاملة في كل مرحلة "

مع أطيب تمنياتنا بالتوفيق ...

زمن الامتحان ٣ ساعات النهاية العظمى ١٢٠ درجة الفرقة: الثالثة (طلبة)		كلية التربية الرياضية قسم المنازلات والرياضات الفردية
الامتحان النظري لمقرر: تدريب رياضة التخصص ١ مادة / الكاراتيه		
الفصل الدراسي : الأول      دور يناير      التاريخ : ٢٠١٧/١/٩		

أجب عن الأسئلة الآتية

السؤال الأول:

تعتبر الأوضاع من الدعائم الأساسية في الهيكل البنائي لرياضة الكاراتيه (كاتا - كوميتيه) وضح ذلك في ضوء الفرق بين الأوضاع التالية ( زنكتسو داتشي- كوكتسو داتشي - كيبا داتشي ) مع تناول كل وضع بالشرح التفصيلي ؟

(٣٠ درجة)

السؤال الثاني :

اكتب تمرينين أحدهما عاما والأخر خاصة برياضة الكاراتيه موضحا عليه هدف التمرين ومكونات الحمل لكل تمرين وكيفية الارتقاء بالحمل التدريبي (تشكيل درجة الحمل) ؟

(٣٠ درجة)

السؤال الثالث :

( أ ) ارسم الملعب التي تقام عليه مباريات الكوميتيه موضحا عليه الأماكن الآتية (اللاعبين- المدربين - الحكام - معاونين .

(ب) أذكر حالات احتساب الإيبون ( ٣ نقاط ) مع ذكر نموذج لكل حالة ؟

(٣٠ درجة)

(ت) أذكر الشروط الستة لإحتساب نقاط التسجيل في الكوميتيه ؟

السؤال الرابع :

وضح من وجهة نظرك كمتخصص أهم عنصر من عناصر اللياقة البدنية الخاصة برياضة الكاراتيه وذلك من خلال وحدة تدريبية موضحا فيها أهداف الوحدة (بدني- مهاري ) - زمن الوحدة مقسم علي أجزاء الوحدة - محتوى الوحدة (التمرينات العامة والخاصة ) في اتجاه أهداف الوحدة ؟

(٣٠ درجة)

مع تمنياتي بالتوفيق ،،، (أ.د/عماد عبدالفتاح السرسى)





جامعة طنطا  
كلية التربية الرياضية  
قسم الالعاب الجماعية ورياضات المضرب  
المادة/تدريب رياضة التخصص (١)  
الفرقة/الثالثة شعبة تدريب (تخصص كرة سلة)  
الزمن /ثلاث ساعات

## امتحان الفصل الدراسي الاول للعام الجامعي ٢٠١٦/٢٠١٧

\*\*\*\*\*

### الدرجة [٣٠.]

### السؤال الاول :

من خلال دراستك للمهارات الاساسية في كرة السلة - اذكر تقسيمين للمهارات الاساسية الهجومية مع تناول احدى المهارات بالتفصيل موضحا ما يلي:  
(الخطوات التعليمية - الأخطاء الشائعة- تدريب للارتقاء بالمهارة).

### الدرجة [٣٠.]

### السؤال الثاني:

- اذكر ما تعرفه عن:
- العوامل المؤثرة على دقة التصويب في كرة السلة.
- طرق تدريب القدرات الذهنية.
- اهمية دراسة الاداء الحركي للمدرب.

### الدرجة [٣٠.]

### السؤال الثالث:

تعتبر مراحل تعلم المهارات الاساسية هي اهم المراحل الذي اتفق عليها جميع الخبراء عن البدء في تعليم المهارات الاساسية في كرة السلة من خلال ما درست ....  
تكلم عن مراحل تعلم المهارات الاساسية في كرة السلة

### الدرجة [٣٠.]

### السؤال الرابع:

- ارسم ملعب كرة سلة .
- ضع علامة (صح) او (خطا) امام كل عبارة مما يلي
- عدد لاعبي فريق كرة السلة ١٥ لاعب ( )
- كل لاعب بالفريق له عدد سبع اخطاء شخصية في طوال وقت المباراة ( )
- يمكن انتهاء المباراة بالتعادل بين الفريقين ويحتسب وقت إضافي قدرة خمس دقائق ( )
- ارتفاع الحلقة عن الارض ٢.٧٥ متر عن مستوى سطح الارض ( )
- زمن المباراة في كرة السلة ٦٠ دقيقة على خمس اشواط ( )

المادة: تدريب رياضة تخصص (١) كرة طائرة  
الزمن: ثلاث ساعات  
تاريخ الامتحان: ٢٠١٧ / ١ / ٩

جامعة طنطا  
كلية التربية الرياضية  
قسم الألعاب الجماعية ورياضات المضرب

امتحان دور يناير للعام الجامعي ٢٠١٦ / ٢٠١٧  
للفرقة الثالثة (بنات) لائحة قديمة

السؤال الأول: (٥٠) درجات

" ان اتقان لاعب الكرة الطائرة للمهارات الأساسية أساس يبني عليه الوصول إلى  
المستوى العالى "

أ- اذكر المهارات الأساسية فى الكرة الطائرة بترتيب أدائها بالملاعب ثم اختار احداها  
وتكلم عنها بالتفصيل من حيث :

- طريقه الأداء - الخطوات التعليمية - تدريبين لاتقانها  
ب - ارسم ملعب الكره الطائرة موضحا عليه الأبعاد الأساسية للملاعب ومناطق اللعب.

السؤال الثاني: - (٥٠) درجات

"إن القدرات البدنية هي الأساس الذى يبني عليه اللاعب للوصول به إلى أعلى  
المستويات العليا "

أ - تناول قدرة القوة بالشرح المفصل.

ب - عرف كل من القدرات البدنيه التالية ( السرعة، التحمل، الرشاقة، المرونة).

ج - بين بالرسم مع الشرح طريقة ( ٤ - ٢ ).

السؤال الثالث: - (٢٠) درجات

تكلم بالتفصيل عن :

- رئيس الفريق.

- اللاعب المدافع الحر

- الأوقات المستقطعة.

- خطأ المركز

جامعة طنطا  
كلية التربية الرياضية  
مسابقات الميدان والمضمار

الفرقة : الثالثة (بنات)  
التاريخ : ٢٠١٧/١/٩  
الزمن : ٣ ساعات  
الدرجة : ١٢٠ درجة

إمتحان مادة / تدريب رياضة التخصص (١) مسابقات الميدان والمضمار  
العام الجامعي ٢٠١٦/٢٠١٧م

السؤال الأول :- (٣٠ درجة)

"المدرّب الجيد لا يضع بالصدفة ، بل يجب أن تكون لديه الرغبة للعمل كمدرّب ، يفهم وإجابات الجسم الإنساني ، علم بأفضل وأحدث طرق التدريب وحاجات لاعبيه ، لذا فإن لشخصية المدرّب وسلوكه أكبر الأثر في تكوين اللاعب".  
- ناقش تلك العبارة مع توضيح أنواع المدرّبين - وصفات المدرّب الجيد .

السؤال الثاني :- (٣٠ درجة)

أجيب عن ثلاث فقط مما يأتي :-

- ١- ما الأدوات البدئية والأدوات المساعدة في عملية تعليم وتدريب مسابقات الميدان والمضمار؟
- ٢- أذكر المراحل الفنية فقط لكل المسابقات التي درستتها؟
- ٣- اكتب ٣ تمرينات تمهيدية لتعليم الوثب العالي بطريقة فوسبرى؟
- ٤- متى تعتبر المحاولة فاشلة في مسابقة دفع الجلة؟


السؤال الثالث :- (٣٠ درجة)

أذكرى من وجهة نظرك أسباب عزوف (إمتناع) الطالبات عن الإلتحاق بتخصص مسابقات الميدان والمضمار . ورأيك في اقتراح الحل المناسب .

السؤال الرابع :- (٣٠ درجة)

- ١- ما مدلول الأرقام التالية - مع كتابه تمييز كل رقم :-  
( ٤-١٢٢-٤٠-٢.٥٠-٢.١٣٥ )
- ٢- ما الخطوات التعليمية لمسابقة قذف القرص؟
- ٣- وضحي الأخطاء الشائعة في مسابقة ١٠٠م/حواجز وكيفية تصحيحها .

مع أطيب تمنياتنا بالنجاح والتوفيق..

زمن الامتحان : ساعتان		جامعة طنطا
النهاية العظمى : ٨٠ درجة		كلية التربية الرياضية
الفرقة - الشعبة / الثالثة " لائحة قديمة " ( شعبة تدريب ) بنوعيتها		قسم علم النفس الرياضي
<b>امتحان مادة (سيكولوجية التدريب الرياضي )</b>		
<b>" الفصل الدراسي الأول " للعام الجامعي ٢٠١٦/٢٠١٧م</b>		

**أجب عن الأسئلة التالية :-**


**• فسر مع الشرح ما يلي :-**

- (أ) مفهوم التدريب العقلي وأهميته في المجال الرياضي. (١٠ درجات)
- (ب) تفسير مفهوم الاسترخاء ، مع شرح طريقة الاسترخاء التدريجي . (٢٠ درجة)
- (ج) تفسير مفهوم التصور العقلي ، مع شرح أهميته في المجال الرياضي . (١٠ درجات)
- (د) تعريف مصطلح (الاحتراق النفسي في المجال الرياضي) مع تفسير ماهية الاحتراق . (١٠ درجات)
- (هـ) اذكر مع الشرح ( مراحل الاحتراق النفسي) في المجال الرياضي . (١٠ درجات)
- (و) اذكر مع الشرح الأسباب الرئيسية التي تسبب مرور اللاعب الرياضي بظاهرة الاحتراق النفسي. (٢٠ درجة)

**مع تمنياتنا بالنجاح والتوفيق ،،،**



رقم كود المقرر :  
زمن الامتحان : ساعتين  
النهاية العظمى : 40 درجة



جامعة طنطا  
كلية التربية الرياضية  
قسم التدريب وعلوم الحركة الرياضية

الامتحان النظري لمقرر : الاعداد البدنى - الفرقة الثالثة (بنين - بنات)  
برنامج : التدريب الرياضى للعام الجامعي 2017/2016

اجب على الاسئلة التالية

درجة (20)

السؤال الاول

تعتبر القوة العضلية هي احد المكونات الأساسية للياقة البدنية التي تكتسب أهمية خاصة، نظرا لدورها المرتبط بالأداء الرياضي أو بالصحة على وجه العموم. فى ضوء هذه العبارة تكلم عن العوامل المؤثرة فى القوة العضلية؟ تكلم عن نظم تدريبات القوة؟

درجة (20)

السؤال الثانى

الرشاقة هى إحدى عناصر اللياقة البدنية وهى عنصر مهم جدا فى كثير من الأنشطة الرياضية بكافة أنواعها سواء كانت فردية أو جماعية. فى ضوء هذه العبارة تكلم عن الرشاقة؟

مع أطيب التمنيات بالتوفيق والنجاح

رقم كود المقرر:		جامعة طنطا
زمن الامتحان : ساعتان		كلية التربية الرياضية
النهاية العظمى : ٨٠ درجة		قسم التدريب وعلوم الحركة الرياضية
الفرقة : الثالثة " تدريب "		
الامتحان النظري لمقرر : القياس البدني والحركي		
للعام الجامعي : ٢٠١٦ \ ٢٠١٧		

### اجب عن الاسئلة التالية

السؤال الاول : ( ٤٠ درجات )

لاشك أن القياس ليس شيئاً جديداً علينا ، فهو ظاهرة واسعة في الانتشار في جميع مجالات الانسان المعاصر ، واستمرت الجهود الى ان توصل الانسان الى ابتكار الكثير من المقاييس والاختبارات فهي وسيلة للحكم المنطقي على الادوات المختلفة التي يستخدمها في تجاربة العملية والعلمية .  
في ضوء العبارة السابقة :

- ١ - عرف كلا من : ( القياس ، التقويم ؟ التقييم ، الاختبار )
- ٢ - اذكر انواع الصدق مع شرح نوع بالتفصيل وذكر امثلة في مجال تخصصك

السؤال الثاني : ( ٤٠ درجات )


تم اخذ عينة عشوائية من طلبة الفرقة الاولى في مادة العاب القوى مسابقة ( الوثب الطويل ) و مادة السباحة مسابقة ( ٥٠ متر حره ) وكانت الدرجات الخام لهذه العينة كالتى :

اسم الطالب	الوثب الطويل	السباحة
١	٤ م	٨ ث
٢	١ م	١٠ ث
٣	٥ م	١٣ ث
٤	٣ م	١٠ ث
٥	٢ م	١٣ ث

### في ضوء العبارة السابقة

كيف يتم تقنين الاختبارين من خلال ثبات القياس بمعامل الارتباط بيرسون

مع التمنيات بالتوفيق



**Third Year**

**Time: 2 hrs.**

**Read The Passage And Answer The Following Questions:**

The American type of football was developed in the 19th century from soccer and rugby football. Played by professionals, amateurs, college, high school, or young children, football in America is one of the most popular sports. It attracts millions of fans each fall and people are very supportive of their favorite teams. The origin or beginning of football may have been a game played by the ancient Greeks called harpaston. In this game, there was no limit to the number of players. The ball was kicked, thrown, or run by the players and the object was to move a ball across a goal by kicking.

The football playing field of today is rectangular in shape and measures 100 yards long and 53.5 yards wide. White lines are painted on the playing field to mark off the distances to the end zone. The game is divided into four quarters, each fifteen minutes long. The first two quarters are known as the first half. There is a rest period between the two halves which usually lasts about fifteen minutes.

Each team has eleven players. Each team has offensive players (play when the team has possession of the ball) and defensive players (play when the other team has possession of the ball). Players are required to wear protective equipment to help keep the body safe during the game.

Helmets are worn to protect the head and face area. Pads are worn to protect the shoulders, arms, and legs. Protective equipment must be worn because of the body contact players have during the game.

Officials supervise the game and are considered to be very important to the game of football. They carry whistles and flags and make certain that the rules of the game are followed during the game. The football is made of leather and is brown in color. It is shaped much like an oval and has white rings near each end of the football. These rings help the players see the ball when it is thrown or someone is running with it. The eight stitches on the top of the football help players to grip or hold the ball when throwing or passing. The most famous football game of the year is the Super Bowl that is played in January or February. It is televised around the world and is watched by millions of people each year.

**1. What is the most famous football game each year?**

- a. the Georgia-Florida game
- b. the Super Bowl
- c. the Alabama-Auburn game
- d. the Army-Navy game

**2. What shape is the football?**

- a. rectangular
- b. Circle
- c. triangle
- d. oval

3. Why are there white rings on each end of the football?

- a. to help players see the ball
- b. to make it look nice
- c. to help players score
- d. to help players run

4. Why do players need protective equipment during the game?

- a. to make their uniforms fit
- b. to keep the body safe
- c. to see the ball
- d. to make touchdowns

5. Who plays American football?

- a. professional players
- b. college players
- c. high school players
- d. all of these

6. What do officials do during the game of football?

- a. watch the game
- b. take up tickets
- c. make sure the rules are followed
- d. kick the ball

7. Which of the following is NOT true?

- a. The football field is rectangular in shape.
- b. The field measures 100 yards long and 53.5 yards wide.
- c. The white lines are used to keep players safe.
- d. The rest period between at the half lasts about fifteen minutes.

8. The word grip means to \_\_\_\_\_.

- a. hold tightly
- b. score during the game
- c. end zone
- d. supervise the game

### Translate The Following

\* From A to Z

Man proposes, God disposes.

Out of sight, out of mind.

\*There is a difference between science and technology. Science is a method of answering theoretical questions; technology is a method of solving practical problems.

### Choose Between Brackets

1-..... is the hottest month ( July- july – Winter)

2-There are four.....in the cage( monkeys- monkey- monkies)

3-Josheph .....a hard worker( am – is – are)

4-She met .....in the market ( him – I – he )

5-They ....arrive late ( will- are- have )

*BEST OF LUCK,*

Dr. Asmaa Kashef